



## 25년 3월 1학년 수학 독해 학습 자료

### 1번

부터 9까지의 숫자를 순서대로 적어볼까요?

부터 9까지의 숫자를 순서대로 읽어볼까요?

(1) '숫자'란 무엇인가요?

(2) '순서대로'는 무슨 뜻인가요?

### 2번

5는 1보다 큰가요?

7은 2보다 작나요?

(1) '~보다'는 무슨 뜻인가요?

(2) '크다/작다'는 무슨 뜻인가요?



## 25년 3월 1학년 수학 독해 학습 자료

### 3번

3보다 1 큰 수는 무엇인가요?

8보다 1 작은 수는 무엇인가요?

(1) ' ~보다 크다 ' 는 무슨 뜻인가요?

(2) ' ~보다 작다 ' 는 무슨 뜻인가요?

### 4번

2 와 5 중에 어떤 숫자가 더 큰가요?

7 과 8 중에 어떤 숫자가 더 작나요?

(1) ' ~중에 ' 는 무슨 뜻인가요?

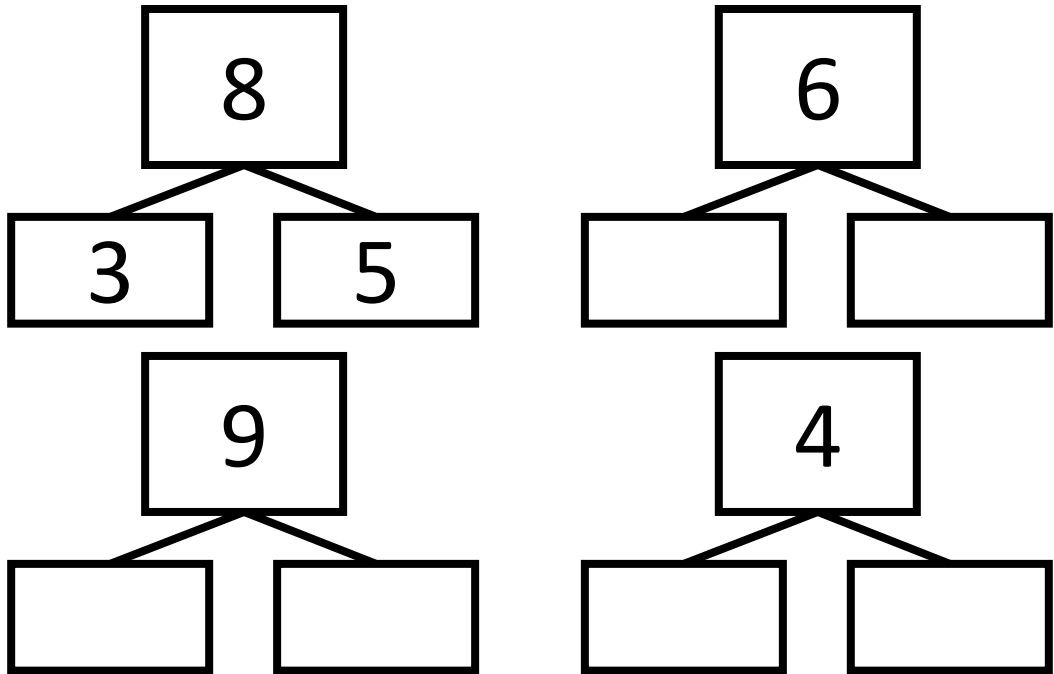
(2) ' 어떤 ' 은 무슨 뜻인가요?



# 25년 3월 1학년 수학 독해 학습 자료

## 5번

아래 숫자들을 <가르기> 해볼까요?



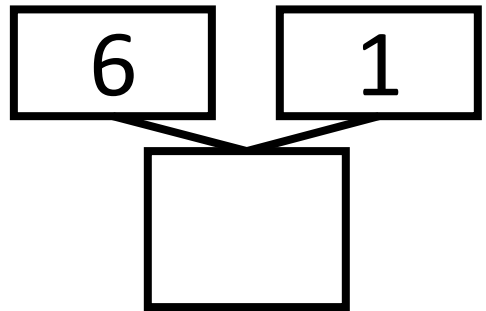
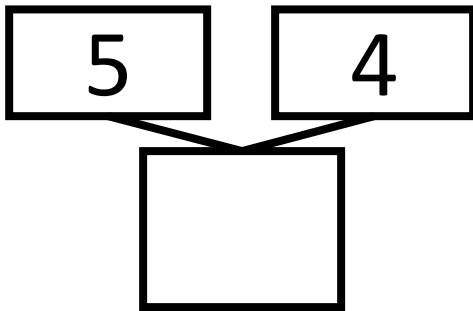
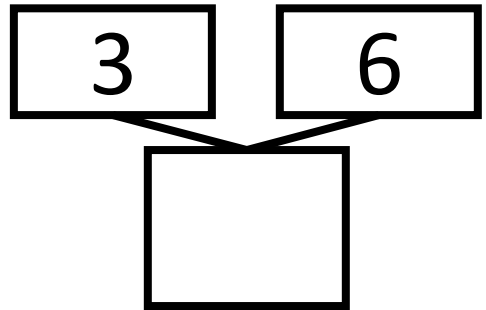
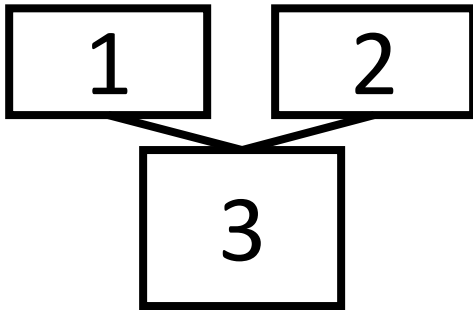
(1) '가르기'란 무엇인가요?



## 25년 3월 1학년 수학 독해 학습 자료

### 6번

아래 숫자들을 <모으기> 해볼까요?



(1) '모으기'란 무엇인가요?



## 25년 3월 1학년 수학 독해 학습 자료

### 7번

흰 사탕이 3개 있고, 검정 사탕이 5개 있습니다. 사탕은 모두 몇 개인지 덧셈식으로 표현해보세요.

- (1) '모두 몇 개인지'의 뜻은 무엇인가요?
- (2) '덧셈식'이란 무엇인가요?
- (3) '표현하다'는 것은 무슨 뜻인가요?

### 8번

연필이 9자루 있었는데, 3자루를 친구에게 빌려줬습니다. 남은 연필은 몇 자루인지 뺄셈식으로 표현해보세요.

- (1) '남은 연필은 몇 자루인지'의 뜻은 무엇인가요?
- (2) '뺄셈식'이란 무엇인가요?



## 25년 3월 1학년 수학 독해 학습 자료

### 9번

9보다 1만큼 더 큰 수를 뭐라고 하나요?

(1) ' ~보다 1만큼 더 크다 ' 는 무슨 뜻인가요?

### 10번

지우개 38개를 10개씩 묶습니다. 몇 개 묶음이 나오고, 몇 개가 남습니까?

(1) ' 묶는다 ' 는 무슨 뜻인가요?

(2) ' 묶음 ' 은 무슨 뜻인가요?

(3) ' 남는다 ' 는 무슨 뜻인가요?

### 11번

38은 23보다 큰가요?

18은 9보다 큰가요?

(1) ' ~보다 크다. ' 는 무슨 뜻인가요?



## 25년 3월 2학년 수학 독해 학습 자료

### 1번

10이 2개인 수는 무엇인가요?

10이 10개인 수는 무엇인가요?

237은 100 이 ( )개 이고, 10 이 ( )개, 1 이 ( )개입니다.

100 이 3개이고, 10 이 5개, 1 이 8개인 수는 ( )입니다.

(1) ' ~이 ~개인 수 ' 는 무슨 뜻인가요?

### 2번

876에서, 숫자 8은 어떤 값을 나타내나요?

(1) '숫자'는 무슨 뜻인가요?

(2) '어떤 값을 나타낸다'는 무슨 뜻인가요?



## 25년 3월 2학년 수학 독해 학습 자료

### 3번

856의 백의 자리, 십의 자리, 일의 자리에 해당하는 수는 각각 얼마인가요?

- (1) '백의 자리, 십의 자리, 일의 자리' 는 각각 무슨 뜻인가요?
- (2) '해당한다' 는 무슨 뜻인가요?

### 4번

빈 칸에 알맞은 숫자는 무엇인가요?

$$123 - 124 - 125 - 126 - ( \quad )$$

$$331 - 341 - 351 - 361 - ( \quad )$$

$$491 - 591 - 691 - 791 - ( \quad )$$

- (1) '빈 칸에 알맞은 숫자' 는 무슨 뜻인가요?





## 25년 3월 2학년 수학 독해 학습 자료

### 5번

숫자 크기를 비교해볼까요?

356 ○ 357

189 ○ 190

678 ○ 698

112 ○ 389

- (1) '숫자 크기'란 무슨 뜻인가요?
- (2) '비교하다'는 무슨 뜻인가요?

### 6번

아래 세 장의 숫자 카드로 만들 수 있는 가장 큰 수와 가장 작은 수는 무엇인가요?

1 3 9

- (1) '카드로 만들 수 있는' 은 무슨 뜻인가요?
- (2) '가장 큰 수' 와 '가장 작은 수' 는 무슨 뜻인가요?



## 25년 3월 2학년 수학 독해 학습 자료

### 7번

다음에 조건을 만족하는 수를 구하세요.

- 200보다 크고 300보다 작습니다.
- 일의 자리 수는 백의 자리보다 1 작습니다.
- 세 숫자의 합은 7입니다.

- (1) '조건에 만족하는 수' 는 무슨 뜻인가요?
- (2) '~보다 크고, ~보다 작다'는 무슨 뜻인가요?
- (3) '~는 ~보다 1작다' 는 무슨 뜻인가요?
- (4) '세 숫자의 합은 7이다' 는 무슨 뜻인가요?



## 25년 3월 3학년 수학 독해 학습 자료

### 1번

빈 칸에 들어가는 수는 무엇인가요?

$$( \quad ) + 159 = 763$$

$$285 + 398 = ( \quad )$$

(1) '빈 칸에 들어가는 수' 는 무슨 뜻인가요?

### 2번

123 456 789 839 919

- 가장 큰 수와 가장 작은 수의 합은 얼마인가요?

- 두번째로 큰 수와 세번째로 큰 수의 차는 얼마인가요?

(1) '~번째로 큰 수'는 무슨 뜻인가요?

(2) '두 수의 합/차'는 무슨 뜻인가요?



## 25년 3월 3학년 수학 독해 학습 자료

### 3번

239보다 121만큼 큰 수는 무엇인가요?

785보다 123만큼 작은 수는 무엇인가요?

(1) ' ~보다 ~만큼 큰 수 ' 는 무슨 뜻인가요?

(2) ' ~보다 ~만큼 작은 수 ' 는 무슨 뜻인가요?

### 4번

' $184 + 234$ ' 과 ' $965 - 656$ ' 중에서 더 큰 수는 무엇인가요?

(1) ' ~와 ~중에서 더 큰 수 ' 는 무슨 뜻인가요?



## 25년 3월 3학년 수학 독해 학습 자료

### 5번

어떤 수에 398를 더했더니 724가 되었습니다.  
어떤 수는 얼마인가요?

- (1) '어떤 수'란 무슨 뜻인가요?
- (2) '~했더니 ~가 되었습니다.'는 무슨 뜻인가요?

### 6번

189에 234를 더하고, 219를 빼면 얼마인가요?

- (1) '~에 ~를 더하고, ~를 뺀다'는 무슨 뜻인가요?



## 25년 3월 3학년 수학 독해 학습 자료

### 7번

카드가 네 장 있습니다.

3 7 8 9

네 장의 카드로 만들 수 있는 가장 큰 세 자리 수와 가장 작은 세 자리 수의 차를 계산해보세요.

- (1) '가장 큰 세 자리 수'는 무슨 뜻인가요?
- (2) '두 수의 차'는 무슨 뜻인가요?

### 8번

집에서 학교까지 거리는 350m이고, 학교에서 도서관까지 거리는 189m입니다. 집에서 학교를 거쳐 도서관으로 가면 전체 거리는 얼마인가요?

- (1) '~에서 ~까지 거리'는 무슨 뜻인가요?
- (2) '전체 거리'는 무슨 뜻인가요?



## 25년 3월 4학년 수학 독해 학습 자료

### 1번

1000 이 10 개인 수를 뭐라고 하나요?

1000만이 10 개인 수를 뭐라고 하나요?

1000억이 10 개인 수를 뭐라고 하나요?

(1) ‘~이 ~개인 수’는 무슨 뜻인가요?

### 2번

4가 나타내는 값은 무엇인가요?

(1) 41798765213

(2) 499882

(3) 1812245

(1) ‘나타내는 값’은 무슨 뜻인가요?



## 25년 3월 4학년 수학 독해 학습 자료

### 3번

빈 칸에 적절한 숫자를 적어보세요.

$$12억 3628 - 12억 3629 - ( \quad )$$


$$45만 3923 - 55만 3923 - ( \quad )$$

(1) '적절한 숫자를 적어보세요.'는 무슨 뜻인가요?

### 4번


숫자 크기를 비교해볼까요?

1234만 6859



1234만 6960

9억 567만 1234



9억 682만 123

(1) '숫자 크기'란 무슨 뜻인가요?

(2) '비교하다'는 무슨 뜻인가요?





## 25년 3월 4학년 수학 독해 학습 자료

### 5번

아래 조건에 해당하는 수를 구해보세요.

- (1) 1,2,3,4,5가 모두 있는 다섯 자리 수입니다.
- (2) 2만 보다 크고, 3만 보다 작은 수입니다.
- (3) 일의 자리 숫자는 4, 백의 자리 숫자는 3입니다.
- (4) 천의 자리 숫자는 십의 자리 숫자보다 큽니다.

- (1) '아래 조건에 해당한다'는 무슨 뜻인가요?
- (2) '1,2,3,4,5가 모두 있다'는 무슨 뜻인가요?
- (3) '2만 보다 크고, 3만 보다 작다'는 무슨 뜻인가요?
- (4) '일의 자리 숫자가 4'는 무슨 뜻인가요?
- (5) '어떤 숫자가 다른 숫자보다 크다'는 무슨 뜻인가요?



## 25년 3월 4학년 수학 독해 학습 자료

### 6번

일이 385, 만이 9823, 억이 1953인 수를 표현해보세요.

- (1) '일이 385, 만이 9823, 억이 1953이다'는 무슨 뜻인가요?
- (2) '수를 표현한다'는 무슨 뜻인가요?

### 7번

대한민국 인구는 5100만 명입니다. 우리나라의 인구가 매년 100만 명씩 늘어난다면, 몇 년 후에 현재 인구의 2배가 될까요?

- (1) '매년 100만 명씩 늘어난다'는 무슨 뜻인가요?
- (2) '현재 인구의 2배가 된다.'는 무슨 뜻인가요?